


به نام خداوند هستی بخش

نام و نام خانوادگی: آزمون جامع (فارسی - ریاضی - علوم و املا) کلاس اول

دبستان دخترانه شهدای صائیران - سال تحصیلی ۹۵-۹۶ ناحیه ۲

فارسی

۱- صدای اول کدام یک (س) است؟



۲- صدای آخر کدام یک (ف) است؟



۳- به تعداد بخش های هر تصویر خانه رنگ کن.




□ □ □ □ □



□ □ □ □ □

۴- به تعداد صدا های هر تصویر خانه رنگ کن.


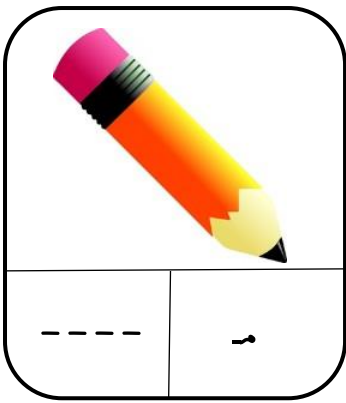


□ □ □ □ □

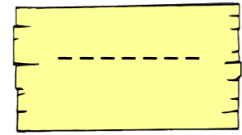
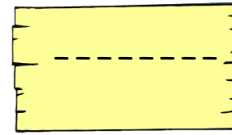
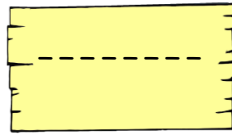
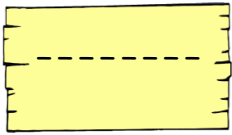




□ □ □ □ □





۵- بخش دوم هر تصویر را بنویس.



۶- صدای اول هر تصویر را بنویس.



۷- نام هر تصویر را بنویس.



۸- کامل کن.

بابا با آمد.

بابا با سبّه

..... آمد.


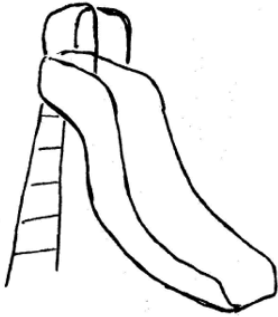
سام با آسّد

۹- جمله بساز.

بابا / -----



باد / -----

۱۰- در کدام یک صدای « او » را می شنوی؟









ریاضی




۱- پرنده ای را که به سمت راست حرکت می کند رنگ کن.



۲- برگ سوم از سمت چپ را رنگ کن.



۳- شکل های سمت راست و چپ با هم چند تا می شوند؟ با چوب خط نشان بده.



۴- جدول را کامل کن.

۱	۴		۳
۲		۱	۴
۴	۲	۳	
	۱	۴	۲

۵- دور عدد مناسب خط بکش.



۲ - ۳ - ۴

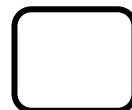




۱ - ۲ - ۳




۲ - ۳ - ۴

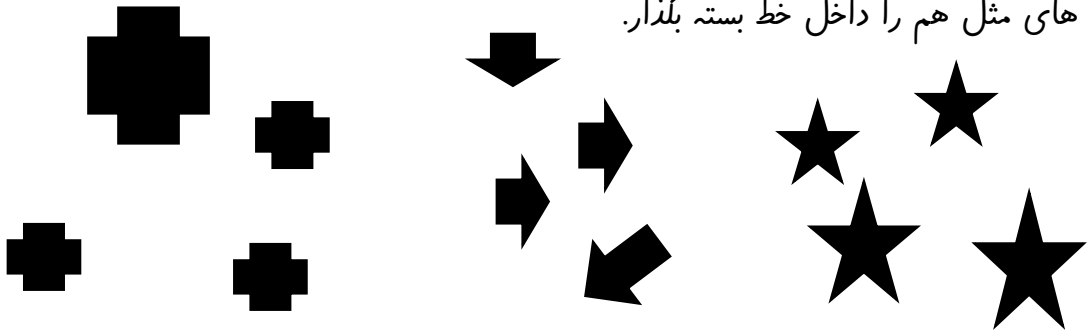
۶- به تعداد شکل ها از انگشتان دست کم کن و برای باقی مانده عدد بنویس.



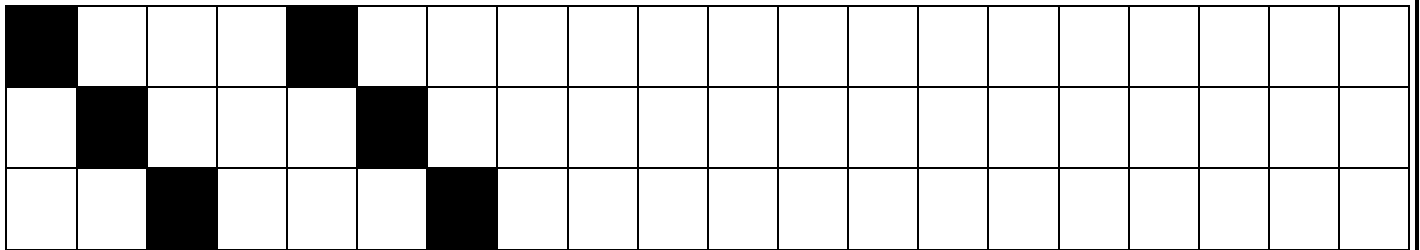
۷- سمت راست درخت خانه بکش.



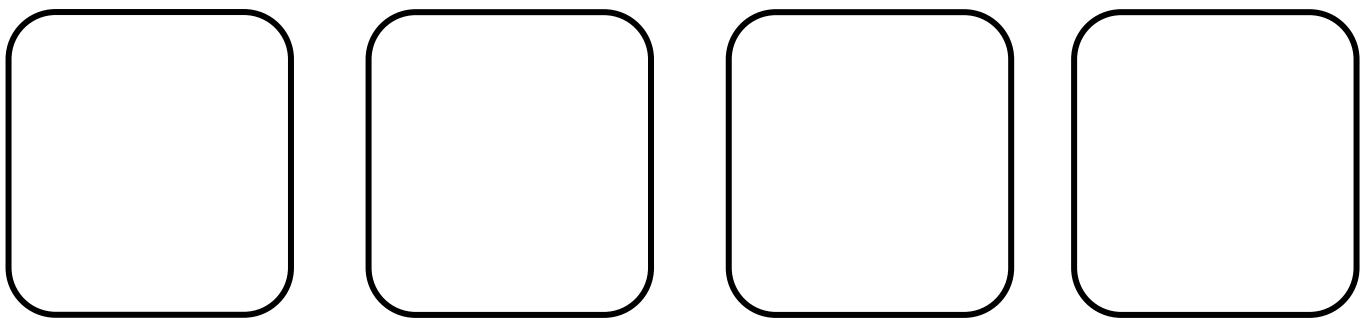
۸- شکل های مثل هم را داخل خط بسته بگذار.



۹- الگو را ادامه بده.



۱۰- برای هر عدد شکل مناسب بکش.



۳




۱

۲

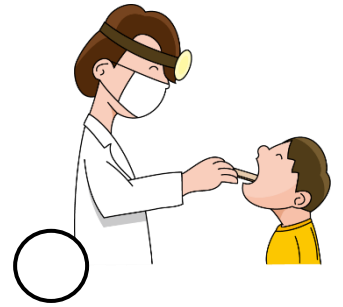
۴

علوم



۱- کدام یک از خودش نور ندارد؟



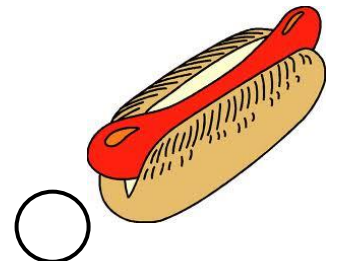


۲- خوب چشیدن و خوب بو کردن برای کدام شغل مهم است؟





۳- کدام یک برای صبحانه مناسب است؟



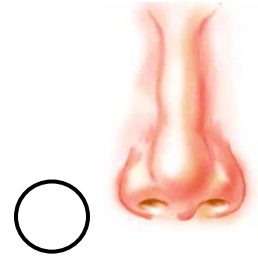
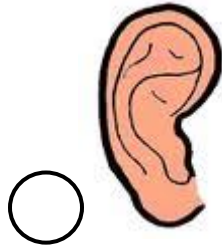
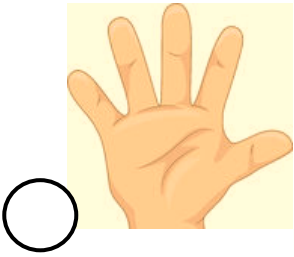
۴- خوردن کدام یک برای استخوان ها و دندان ها مناسب است؟





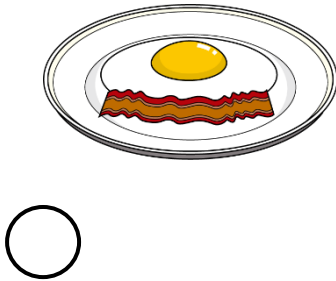
۵- برای رشد بهتر بدن خوردن کدام یک مناسب تر است؟





۶- کسانی که نابینا هستند از کدام حس خود بیشتر استفاده می کنند؟




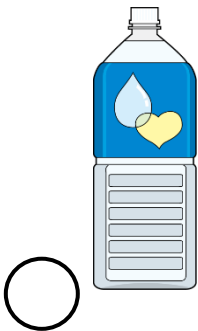
۷- خوردن کدام یک برای سلامتی مضر است؟





۸- کدام یک صدای دلنواز است؟



۹- کدام یک نه مزه دارد نه بو و نه رنگ؟



۱۰- کدام یک شخصی است و دیگران نباید از آن استفاده کنند؟



املا



نمونه سوالات درسی از ابتدایی تا کنکور

آموزش دروس کمک به والدین کمک به دانش آموزان

ارائه عکس و تصاویر متحرک آموزش دروس

لینک تمامی کانالهای تخصصی که زیر مجموعه کانال اصلی هستند جهت عضویت اعلام میگردد. لطفاً به دوستان و آشنایان خود نیز این پیام را ارسال کنید

لازم به یادآوری می باشد که نرم افزار تلگرام گوشی ها برای پیوستن به این کانال ها می بایست آپدیت و به روز باشد.

کانال مادر و اصلی

کانال کلاس هفتم

<https://telegram.me/questions>

<https://telegram.me/questions7>

کانال کلاس پیش دبستانی و مهد کودک ها

کانال کلاس هشتم

<https://telegram.me/questionsmahd>

<https://telegram.me/questions8>

کانال کلاس اول ابتدایی

کانال کلاس نهم

<https://telegram.me/questions1>

<https://telegram.me/questions9>

کانال کلاس دوم ابتدایی

کلاس اول دبیرستان دوره متوسطه دوم (دهم)

<https://telegram.me/questions2>

<https://telegram.me/questions10>

کانال کلاس سوم ابتدایی

کلاس دوم دبیرستان دوره متوسطه دوم (یازدهم)

<https://telegram.me/questions3>

<https://telegram.me/questions11>

کانال کلاس چهارم ابتدایی

کلاس سوم دبیرستان دوره متوسطه دوم (دوازدهم)

<https://telegram.me/questions4>

<https://telegram.me/questions12>

کانال کلاس پنجم ابتدایی

کانال هنرستانی ها

<https://telegram.me/questions5>

<https://telegram.me/questions13>

کانال کلاس ششم ابتدایی

کانال پیش دانشگاهی و کنکور

<https://telegram.me/questions6>

<https://telegram.me/questionspish>